



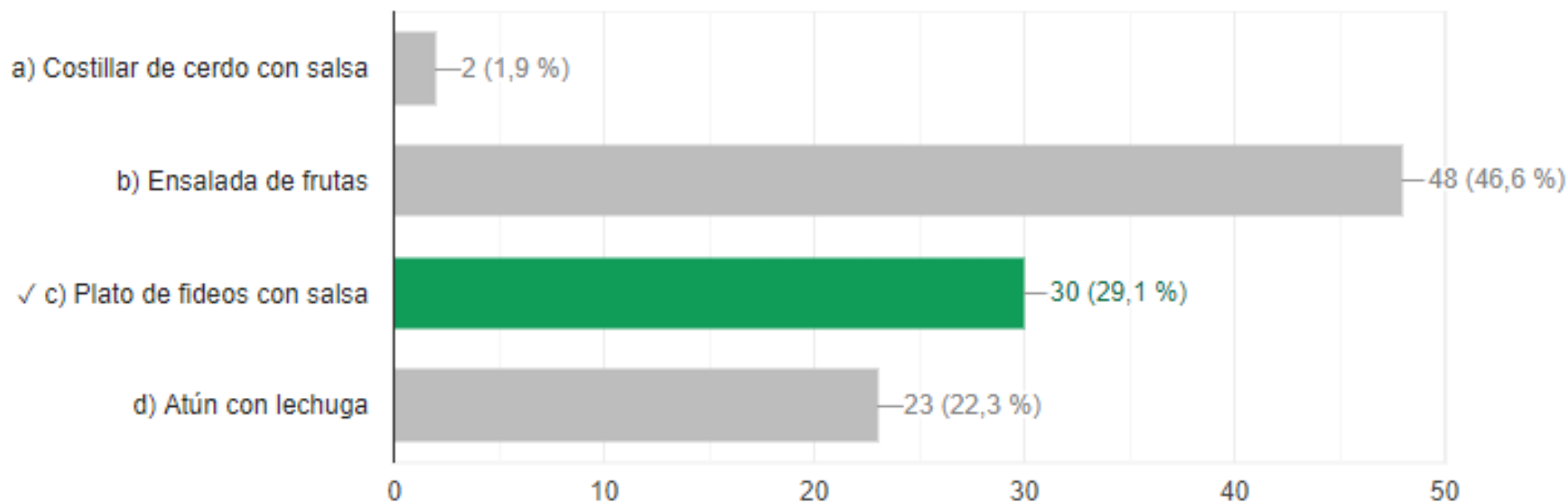
Centro Educativo de Adultos
San Alfonso

Revisión de prueba de diagnóstico

PROFESORES : IGNACIO TAPIA Y MICHELLE CABRERA

5. Sofia está a unas horas de una competencia de atletismo, en la cuál va a necesitar bastante energía para poder tener un buen desempeño en la competencia. ¿Qué alimento debería consumir Sofia antes de competir?

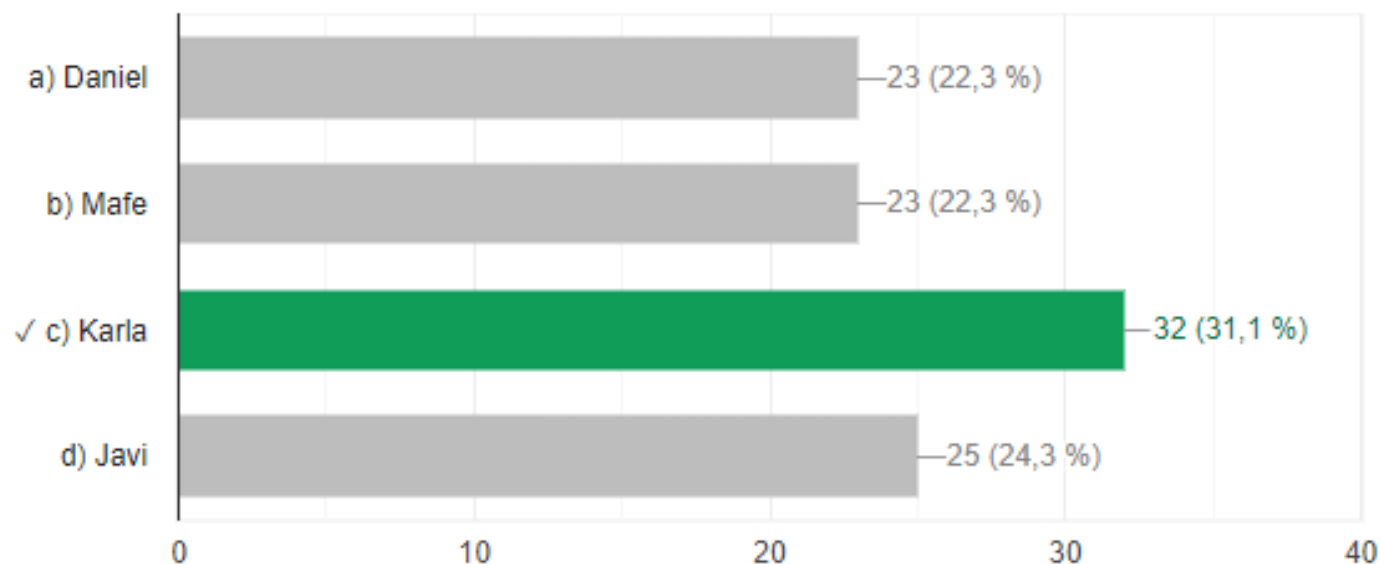
30 de 103 respuestas correctas



Pregunta N° 6

6. En la canción "Condor" de Chystemc rapea la siguiente rima: "yo pillé mi medicina en la enorme flora con esporas o al comer hojas dotadas de poder solar." Al escuchar esa rima Ignacio que estaba con sus amigos les pregunta : ¿Cuándo el Chystemc se come las hojas de lechuga, también adquiere la energía del sol? ¿Con cuál amigo/a de Ignacio estás de acuerdo?

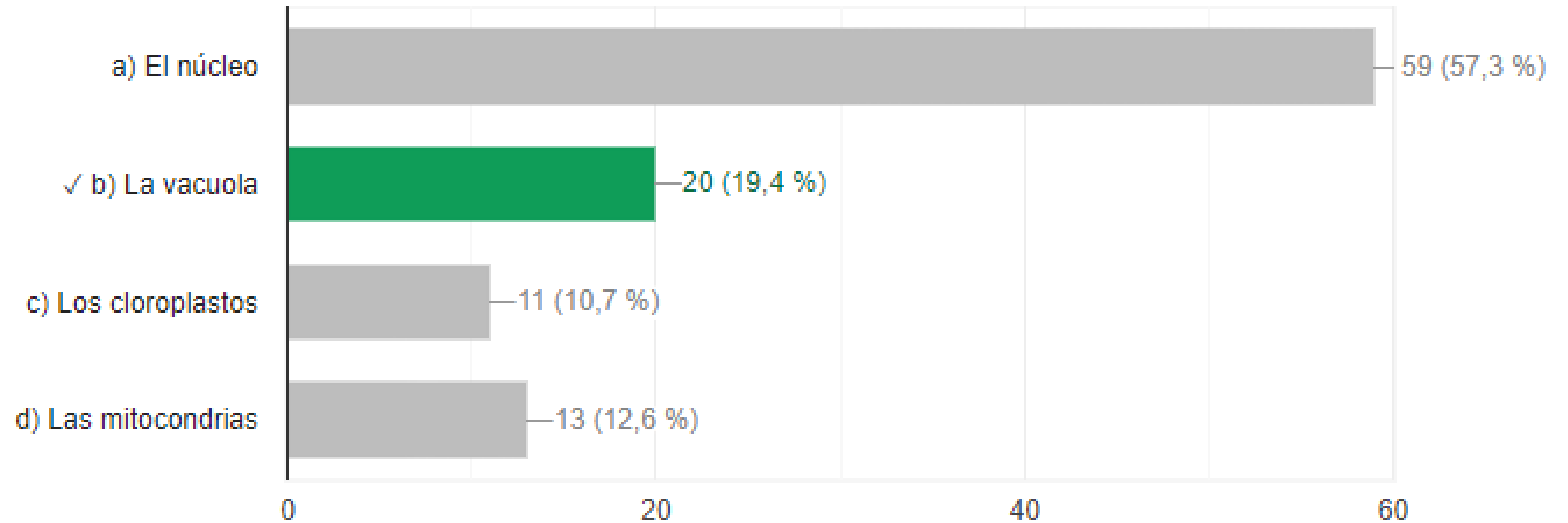
32 de 103 respuestas correctas



Pregunta N°8

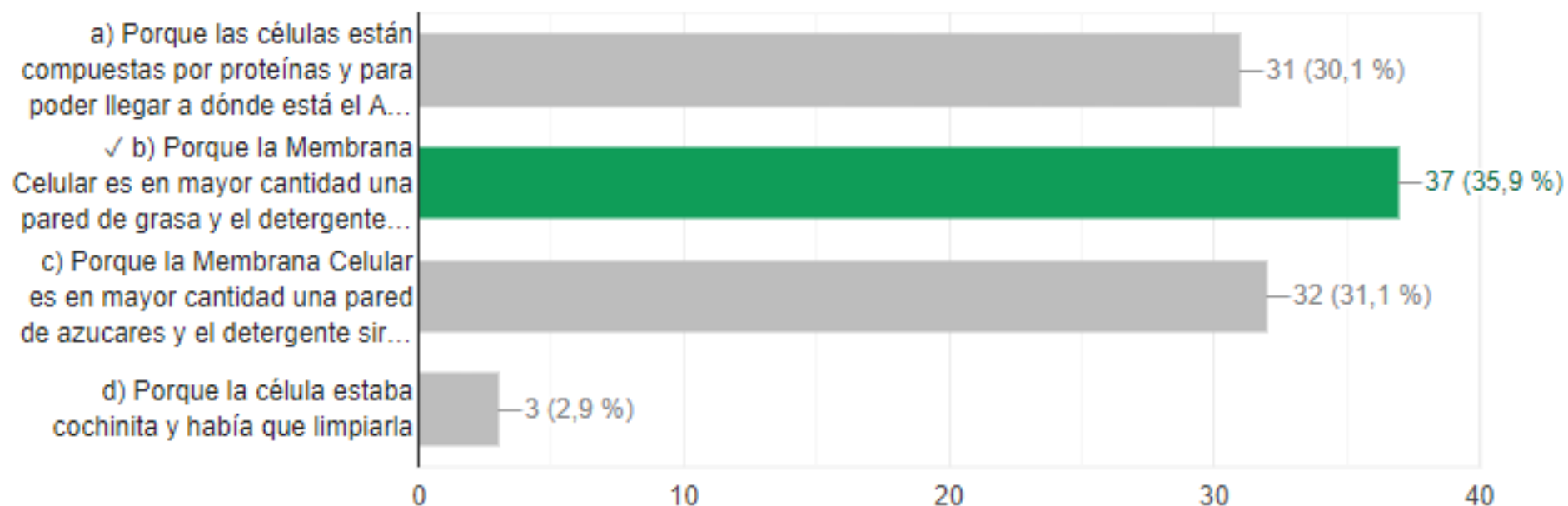
8. En una célula vegetal, es común observar un organelo que ocupa la mayor porción del citoplasma:

20 de 103 respuestas correctas



14. Dentro del proceso experimental que la dio la Profesora de Ciencias a Victoria para poder extraer el ADN de un tejido de Frutilla luego de moler la frutilla, les pide agregar unas gotas de detergente. ¿Por qué la profesora de Victoria le pide agregar detergente en el proceso experimental?

37 de 103 respuestas correctas



Pi 15. Stephanie estaba preparando frutillas con azúcar, para lo cual primero lava las frutillas, después les agrega azúcar y las deja refrigerar al menos 3 horas. Al finalizar se da cuenta que hay “jugo de frutilla” en el pocillo donde tenía las frutillas. ¿De dónde proviene ese líquido?

51 de 103 respuestas correctas

